

绝密★启用前

盐城市二〇一二年初中毕业与升学统一考试

综合 II 试题

注意事项:


1. 本试卷包含思想品德、历史两部分。试卷满分 100 分，思想品德、历史各 50 分。考试时间为 100 分钟。考试形式为开卷。
2. 本试卷中所有试题必须作答在答题卡上规定的位置，否则不给分。
3. 答题前，务必将自己的姓名、准考证号用 0.5 毫米黑色墨水签字笔填写在试卷及答题卡上。

思想品德部分（50 分）

一、单项选择题：每小题只有一个选项最符合题意。本题共 12 小题，每小题 2 分，共 24 分。


1. 国务院 2012 年 4 月公布了《校车安全条例》，从而将校车安全纳入法制轨道，加大了立法和执法的力度，这表明法律最主要的特征是
A. 法律是由国家强制力保证实施的
B. 法律是由国务院制定或认可的
C. 法律是全体公民意志的体现
D. 公民在法律面前人人平等
2. 2012 年，“世界目光看什么？”全球人口超 70 亿，发展压力加大；欧美债务危机愈演愈烈，世界经济衰退风险增大；伊朗与西方继续对立，伊核危机加剧……这体现了
A. 国际竞争的实质是综合国力的较量
B. 世界多极化趋势在不断加强
C. 经济全球化趋势不断推进
D. 和平与发展仍是当今时代的主题
3. 社会交往需要注意文明礼貌，讲究交往礼仪。下列言行不符合基本交往礼仪的是
A. “对不起，我踩你脚了！”“不，是我的脚放错了地方。”
B. “喂，老头儿，这里离张村有多远？”
C. 在集体宿舍里，睡在上床的小林总是轻轻地翻身
D. 小明到同学家作客时，不乱动主人家的物品
4. 以下行为符合右图要求并切实可行的是
A. 多使用一次性塑料袋，少使用纸袋布袋
B. 多步行、骑自行车、乘公交，少用私家车
C. 不吃烧烤食品、肉制品，多吃蔬菜
D. 禁用空调、洗衣机等，节电节水
5. 网络信息内容丰富，传播迅捷，但各种谣言也层出不穷。对于网络谣言，作为公民要
A. 坚决打击 依法惩处
B. 加强管理 科学引导
C. 理性思考 正确辨别
D. 遵守法律 远离网络




6. 某公司向社会公开征集商标创意作品，初三学生李阳设计制作的一款作品被该公司选用，并获得 2 万元报酬。李阳获得的报酬属于
- A. 按生产要素分配所得的收入
B. 个体劳动经营所得的收入
C. 按劳分配所得的收入
D. 投入资本所得的收入
7. 所谓晒客，指的是那些热衷于用文字、照片和视频等方式将私人物件以及生活经历放在网上曝光、与人分享的网友。“晒客”族的一个口号就是：“只有不想晒的，没有不能晒的。”这种观点
- A. 正确，网络是一片无拘无束的天空
B. 错误，公民的自由是在法律范围内的自由
C. 正确，公民享有言论自由
D. 错误，真正的自由是不存在的
8. 右图给我们的启示是
- A. 放飞理想 追求成功
B. 开拓进取 勇于创新
C. 脚踏实地 提升素质
D. 树立自信 敢于实践
- 
9. 修改后的选举法保障各民族都有适当数量的代表，人口再少的民族也要有一名代表。这表明
- A. 我国坚持民族平等的原则
B. 我国坚持民族互助的原则
C. 我国坚持各民族共同繁荣的原则
D. 我国实行民族区域自治制度
10. 八年级学生小磊，在最近的几次学科知识检测中，成绩都不理想，他觉得自己升学无望，决定弃学找工作。从法律角度来看，他
- A. 没有认识到学习的重要性
B. 没有正确对待学习中的困难和挫折
C. 缺乏自信和远大的理想
D. 没有认识到受教育是适龄公民的权利和义务
11. 小明同学希望政府有关部门能增加途经学校的公交车班次，以方便学生出行。下列可以让他表达这一意愿的方式有
- ① 通过人大代表转达
② 直接发信函、电子邮件给有关部门
③ 拨打“市民热线”
④ 向社会公示或向有关部门举报
- A. ①②
B. ③④
C. ①②③
D. ②③④
12. 近日，一则网帖引发热议，帖子中称一位农民工小伙子给一对母子让座时，那位母亲竟嫌小伙子坐过的座位脏，还冲孩子发火，不让孩子坐。如果你跟帖，可以发表的恰当观点是
- ① 谦让友善才能促进人际和睦、社会和谐
② 要弘扬平等待人、尊重他人的中华传统美德
③ 善于合作，勇于竞争，才能达到双赢
④ 家长要用健康的思想、良好的品行影响、教育未成年人
- A. ①②④
B. ①③④
C. ②③
D. ①②

二、简要分析题：结合材料运用所学知识对问题进行简要分析和说明。本题共 2 小题，第 13 题 6 分，第 14 题 8 分，共 14 分。


13. 综合下列图片所反映的内容，你可以得出哪些结论？



“天宫一号”与“神舟八号”对接



2012 年国家科技奖励大会



“蛟龙号”载人深潜器入海

14. 阅读下列材料：

材料一：获得 2011 年度“感动中国人物”的孟佩杰，5 岁时父母相继去世；8 岁时养母又因病瘫痪，从此，她独自承担起照顾养母的任务。2009 年被大学录取后，孟佩杰不放心瘫痪在床的养母，决定“带着母亲上大学”。

材料二：汪某的母亲很宠孩子，她苦苦支撑着儿子每年 30 多万元的赴日留学开销。而汪某一味依赖母亲，并与母亲在生活费的问题上产生矛盾，由于缺乏交流沟通，使得汪某的消极情绪一直处于累积状态，终于在一次与母亲的争执中拔刀将其刺伤。2012 年 3 月，法院作出宣判：被告人汪某犯故意伤害罪，判处有期徒刑 3 年 6 个月。

(1) 试分别从道德、法律角度对孟佩杰和汪某的行为进行评析。(4 分)

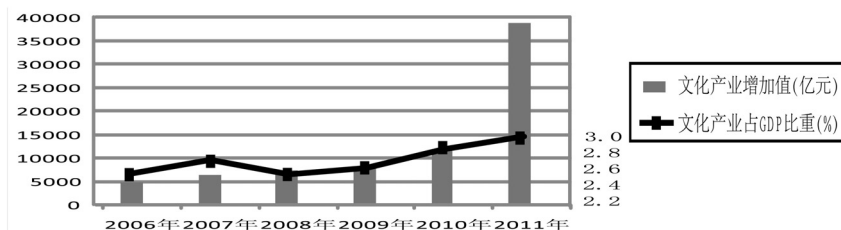
(2) 如要预防材料二中悲剧的发生，试对汪某的心理问题，提出心理调适方案。(4 分)

三、实践与探究题：结合背景材料进行探究，能够发现问题、提出问题并综合运用有关知识分析问题、解决问题。本题共 12 分。

15. 党的十七届六中全会审议通过了《中共中央关于深化文化体制改革、推动社会主义文化大发展大繁荣若干重大问题的决定》。某校初三（1）班同学以“关注文化繁荣，促进家乡发展”为主题，开展研究性学习，下面是同学们通过上网、走访等方式获得的信息，以及在研究中产生的困惑和问题，让我们共同参与探究与实践。

★反思文化发展：

材料一：2006 年-2011 年我国文化产业增加值及占 GDP 比重



注：美国的文化产业占整个 GDP 的 25%，英国达到 11%，日本为 20%。

材料二：当美国利用中国的花木兰故事拍成电影成功占领中国市场时，中国的创意产业几乎为零。美国缺少文化产业的传统资源，但他们却善于从其它民族的历史和故事中取材，进行创新和包装，“熊猫”和“功夫”这两个 100% 的中国元素，被好莱坞梦工厂包装成《功夫熊猫》，为其赢得数亿美元票房收入。这使美国文化产业在获得新的价值增长点的同时，也使美国的价值观在世界范围内得到了宣扬。

(1) 对上述材料所反映的信息，你有何感想？（4 分）

★关注文化争议：

2011 年 9 月召开的中共盐城市第六次党代会提出：要加强党对文化建设的领导，建设文化盐城。市委、市政府也高度重视文化设施项目建设，在盐城市“十二五”规划中提出，今后五年将投资 67 亿元实施 11 个重大文化项目。

据此，有人提出疑问，“文化建设是政府的事，党领导文化建设是否有越俎代庖之嫌？”也有人疑虑，“关注民生关键是经济建设，耗费巨资搞文化建设是否会阻碍经济发展，影响民生？”

(2) 如果你作为市委或市政府的发言人予以解答，请选择其中一种疑问（疑虑），依据所学知识拟定一份发言提纲。（4 分）

★参与文化建设：

2011 年 11 月 19 日，在盐城市团委、青联倡导下，盐城市青年文化促进会成立。下面是文化促进会对某乡的文化生活情况调查结果。

盐城市某乡文化发展情况调查表

农民科技文化素质		日常文化生活消费				文化设施建设情况				备注
平均受教育年限	懂技术的农民比重	看电视、打牌人数比重	上网人数比重	读书看报人数比重	其他（如棋类、球类等活动）人数比重	公共图书馆	文化站	电影院	其他（如电子阅览室等）	农村流传的传统文化形式（如麦秸画、舞龙等）日益萎缩
6 年	10%	64%	9.5%	20%	6.5%	无	1 个	无	无	

(3) 调查表反映了该乡文化发展中存在哪些主要问题？如果你是该会会员，你能为此做些什么？（4 分）

历史部分 (50 分)

一、单项选择题：每小题只有一个选项最符合题意。本题共 25 小题，每小题 1 分，计 25 分。

1. 央视热播纪录片《舌尖上的中国》传承中华美食文化，引发广泛关注。右图是我国远古时期的陶制炊具，它距今约有

A. 一百七十万年 B. 六七千年 C. 四千多年 D. 两千多年

2. 西汉在政治、经济、军事、思想等方面实现了国家的大一统，汉武帝功不可没。他在政治方面采取的主要措施是

A. 开创中央集权制度 B. 罢黜百家、独尊儒术
C. 拆分侯、王的封地 D. 派张骞出使西域

3. 下列各项属于唐朝和吐蕃密切交往的史实是 ①松赞干布统一青藏高原 ②文成公主入吐蕃 ③尺带珠丹与金城公主联姻 ④设置驻藏大臣

A. ①②④ B. ①④ C. ②③④ D. ②③

4. “朝廷……实仰东南财富”；“丝、棉纺织业、造纸业中心及对外贸易港口多集中在南方”；“苏湖熟，天下足”。这些现象最早出现在

A. 南北朝时期 B. 隋唐时期
C. 两宋时期 D. 明清时期

5. 从右侧地图可以看出，当时管辖盐城市所在地区的行省是

A. 行中书省 B. 江浙行省
C. 河南江北行省 D. 江西行省

6. 据史料记载，1279 年，天文学家郭守敬奉旨进行“四海观测”，共设立了 27 个观测点，其中南海观测点设在黄岩岛。当时给郭守敬下旨的是

A. 成吉思汗 B. 忽必烈 C. 朱元璋 D. 康熙皇帝

7. 某历史兴趣小组要探究明代手工工场的生产状况，他们应查阅的著作是



A



B



C



D


8. 著名史学家陈旭麓指出：“这场战争，自西方人 1514 年到中国起，是他们积 325 年窥探之后的一逞。对于中国人来说，这场战争是一块界碑。”这场战争是

A. 雅克萨之战 B. 鸦片战争 C. 甲午中日战争 D. 八国联军侵华战争

9. 在晚清像李鸿章、袁世凯那样的重臣均非科举出身，另一方面像张謇中了状元也不做官，而是经商办实业。这反映了当时

A. 科举制度不适应社会发展，不能培养实用人才 B. 清政府大力发展实业
C. 清朝已经废除了科举制度 D. 帝国主义操纵科举制度

10. 下列一组图片是盐阜地区某一时期革命历史的见证，这一时期是



A. 北伐战争时期 B. 红军长征时期 C. 抗日战争时期 D. 解放战争时期



11. 1954 年中华人民共和国宪法以共同纲领为基础，又是共同纲领的发展。这里的“发展”主要体现在


- A. 实行人民民主专政
B. 明确了我国的社会主义性质
C. 确定了国旗与国歌
D. 确立了中国共产党的领导

12. 1945 年殷氏夫妇创办糕点厂，建国后生意兴旺。1956 年社会主义改造完成后殷氏夫妇最有可能的状况是

- A. 继续经营，并开始把利润的大部分上缴国家
B. 继续经营，并开始把利润的小部分上缴国家
C. 不能继续经营，糕点厂被国家没收
D. 不能继续经营，但可以以此获得部分收益

13. 右图漫画从一个侧面反映了近 40 年来中美关系的状况，从图中我们可以得出的最主要信息是

- A. 中美关系日趋紧张
B. 美国公开否定中美联合公报
C. 美国对华政策阳奉阴违
D. 美国恪守“一个中国”原则



14. 中共十一届三中全会后，农村实行家庭联产承包责任制，农民从中获得了

- A. 土地所有权
B. 村民自治权
C. 生产自主权
D. 乡镇企业兴办权

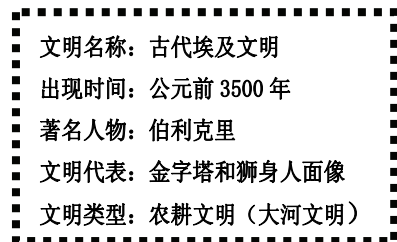
15. 20 世纪 90 年代初，大陆海协会与台湾海基会达成的重要共识是

- ①坚持一个中国的原则 ②加强两岸经济交流，互补互利 ③推动祖国和平统一大业 ④海峡两岸直接实现通邮、通航、通商

- A. ②③ B. ①④ C. ①③④ D. ①②

16. 右图是九年级某班同学制作的历史学习卡片，其中有一处错误，该处是

- A. 出现时间
B. 著名人物
C. 文明代表
D. 文明类型



17. “我的附庸的附庸，不是我的附庸”反映的是

- A. 雅典的奴隶制民主政治
B. 西周的分封制
C. 西欧的封建等级制度
D. 印度的种姓制度

18. 郑和与哥伦布是 15 世纪以来东西方著名的航海家。他们的远航活动


- A. 都以加强友好交往为目的
B. 都途经非洲好望角
C. 都有强盛的国家作后盾
D. 所到之处都受到热烈欢迎

19. 把 18 世纪末的法国大革命推向高潮的人物是

- A. 克伦威尔
B. 罗伯斯庇尔
C. 拿破仑
D. 伏尔泰

20. 右侧漫画所体现的矛盾最终激化并导致的战争是

- A. 第一次世界大战
B. 第二次世界大战
C. 美苏冷战
D. 科索沃战争



21. 斯塔夫里阿诺斯在《全球通史》中写道：“在西方的经济确实是一团糟的同时，苏联正在继续进行经济发展方面的独特实验”。下列选项中属于“独特实验”的是

- A. 推行战时共产主义政策
B. 实施新经济政策
C. 按照五年计划组织经济建设
D. 建立社会主义市场经济体制

22. 下列表述中，符合二十世纪五六十年代匈牙利、捷克斯洛伐克等东欧国家历史特点的是
- A. 摆脱殖民统治，建立独立国家 B. 种族矛盾尖锐，地区冲突不断
- C. 对经济政治体制进行局部改革 D. 发展经济，走向区域联合
23. 二十世纪九十年代后美国进入新经济时代，下列标识所代表的产业在该经济时代起主要推动作用的是



A



B



C



D

24. 下表的内容与世界政治格局变化有关，其中史实与结论一致的是

史 实	结 论
①1917年十月革命胜利	打破资本主义国家一统天下的局面
②德日法西斯政权建立	凡尔赛——华盛顿体系崩溃
③华沙条约组织成立	两极格局由此形成
④苏联解体	政治多极化格局形成

- A. ①③ B. ③④ C. ②④ D. ①④
25. 下列文艺作品与阐述搭配不正确的是
- A. 《英雄交响曲》——为纪念一个伟人而作
- B. 《战争与和平》——史诗和编年史特色的巨著
- C. 《格尔尼卡》——抗议法西斯的暴行
- D. 《美国的悲剧》——谴责美国黑人奴隶制的罪恶

二、材料解析和问答题（本题共3小题，第26题9分、第27题8分、第28题8分，计25分）

26. 思想理论是社会实践的先导。阅读下列材料，回答问题。

材料一：“治世不一道，便国不法古”。

——商鞅

材料二：是书何以作？曰：“为以夷攻夷而作，为以夷款夷而作，为师夷长技以制夷而作。”

——魏源

材料三：1917年，俄国十月社会主义革命的胜利，使中国先进的知识分子看到了“新世纪的曙光”……从此，中国的先进分子以马克思主义为精神武器，教育和组织人民，将革命推进到一个新时期。

——人教版八年级历史教材

材料四：“给予每个人以天赋的权利……人身和财产的全部自由。”

——《哲学通信》

请回答：

- (1) 材料一的主张反映了战国时期哪家学派的思想？商鞅在地方行政管理方面是怎样体现这一思想主张的？（2分）
- (2) 材料二出自哪一著作？该思想主张影响下的首次大规模实践活动产生了什么积极影响？（3分）

(3) 材料三中“将革命推进到一个新时期”是指什么时期？十月革命后最早在中国宣传马克思主义的是谁？（2分）

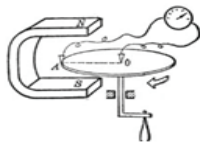
(4) 材料四的思想主张对当时欧美资产阶级革命产生了积极影响。请写出当时革命中受其影响颁布的相关文件。（2分）

27. 今年5月底，第十五届国际科技产业展览会（又称“科博会”）在北京举行，中国正积极由近代的科技弱国向当代科技创新国家迈进。阅读下列材料，回答问题。

材料一：18世纪中期到19世纪中期，……引起了欧洲生产的革命，……英国引领了这一历史发展的潮流，取得了技冠群雄、傲视全球的辉煌成果。

——中国经济网

材料二：



法拉第的圆盘发电机



卡尔·本茨和他的汽车

材料三：……本届科博会有约10家央企亮相，其中，中国核工业集团和中国兵器工业集团（又名“中国北方工业集团公司”）为首次参展。……作为推动实体经济的重要内容，科博会首次组织农业科技展区，突出展示农业科技，推动农业现代化，将集中展示“中国国际现代农业科技博览园”项目。

——新华网

请回答：

- (1) 材料一中“生产的革命”的标志性成就是什么？英国能“技冠群雄”的政治前提是什么？（2分）
- (2) 材料二反映的是哪次科技革命的成就？美国在这次科技革命中“勇于创新”，请举两例说明。（3分）
- (3) “中国与前两次工业革命失之交臂，但抓住了第三次科技革命的良好机遇。”结合材料三所涉及的领域，列举两个抓住“良好机遇”所取得的成果，并请写出改革开放后我国制定的高科技发展计划的名称。（3分）

28. 人类社会的发展时常会面临许多危机。处置不当，则遗害深远；应对得当，则能化危机为发展的契机。请回答下列问题：

- (1) 19世纪中期，俄国面临怎样的社会危机？针对危机采取的措施是什么？（2分）
- (2) 19世纪末20世纪初，中华民族危机日益严重，中国资产阶级发起了哪些救亡图存的运动？（3分）
- (3) 20世纪30年代，西方资本主义国家摆脱经济危机的措施有哪些？（2分）
- (4) 20世纪50年代召开的万隆会议，因个别西方国家的挑拨和与会各国的相互猜疑而深陷危机，周恩来提出怎样的方针，化危机为各国友好交往的契机？（1分）