

泰安市 2013 年初中学业水平考试

地理试题

第一卷（选择题，共 50 分）

每小题给出四个选项中，只有一个正确答案。每小题 2 分，共 50 分。

地图是学习地理的工具，结合所学知识，回答 1-3 题。

1、当驾驶员不认识路，打开车上的导航地图，选择路线，边看图边行驶，可以省时省力，准确到达目的地。车载导航地图属于（ ）

A 地形图 B 农业图 C 交通图 D 政区图

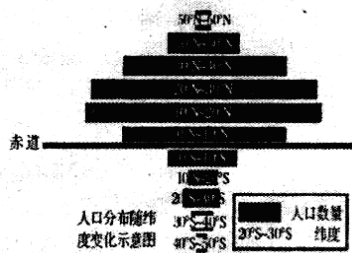
2、读右面的“某地等高线地形图”分析判断：假如在野外宿营，一般不能选择图中①处的主要原因（ ）

A 位于陡崖，地形坡度大 B 位于山脊，风力强大
C 位于鞍部，地形复杂 D 位于河谷，山势险峻，山洪和山石崩塌威胁大

3、图中②处修建了水泥厂，其原料主要来自③处的采石场。为了运输原料，计划修建一条公路，比较合理的线路是（ ）

A 甲 B 乙 C 丙 D 丁

4、从“人口分布随纬度变化示意图”可知，世界人口集中分布在（ ）



A 北半球中、低纬度 B 南半球中、高纬度 C 南半球中、低纬度 D 北半球中、高纬度

世界各地自然、人文环境差异显著，读下图，回答 5-7 题。

5、关于图中所示区域的叙述，正确的是（ ）

A、B 处是北美洲和南美洲的分界线苏伊士运河

B、C 处是太平洋

C、①点所在地方热带草原气候

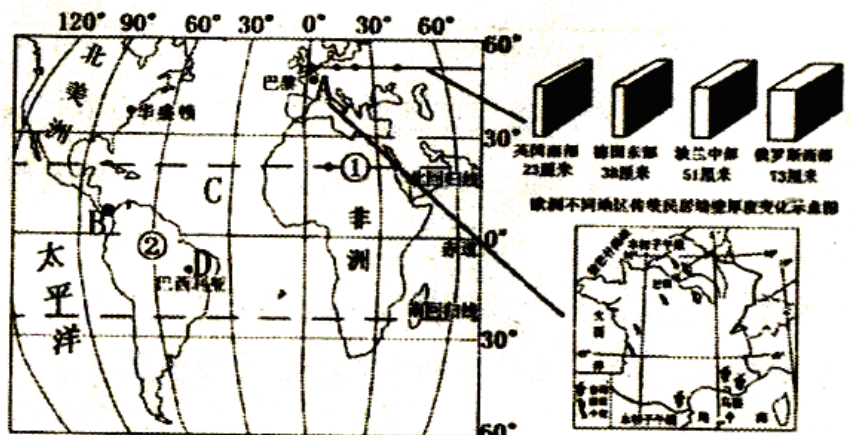
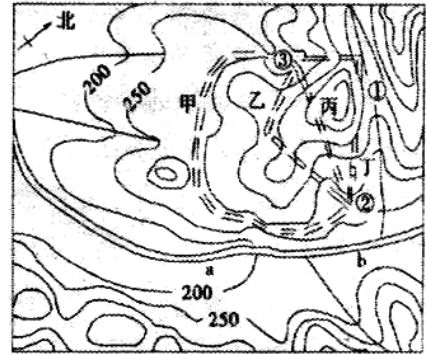
D、右图资料显示，由英国南部至俄罗斯西部传统民居墙壁越来越厚，其主要原因是冬季气温越来越低

6、关于图中 A 点所在国家的叙述，正确的是（ ）

A 西北部隔拉芒什海峡与俄罗斯相望

B 北部巴黎盆地夏季气温高，光照充足，生产优质葡萄

C 汽车、飞机制造等工业发达，服装、食品、化妆品等工业市场竞争力不强



D 埃菲尔铁塔与凯旋门、罗浮宫一起，成为巴黎的象征

7、关于图中 D 点所在国家的叙述，错误的是（ ）

A 图中②区域为该国也是世界上最大的热带雨林区 B 该国为“金砖国家”之一，近年来经济发展迅速，拥有较为完整的工业体系 C 发电量核电的比重高达 70% D 咖啡、蔗糖、香蕉、剑麻的产量居世界首位

南亚和西亚一直是世界热点之一。读西亚和南亚局部地区图，回答 8-10 题。

8、导致西亚地区冲突不断地因素很多，下列哪种因素不是其主要原因是（ ）

A 地处“五海三洲之地”，战略地位重要 B 争夺丰富的石油资源和有限的水资源
C 存在明显的宗教信仰差异 D 以畜牧业为主的农业著名

9、西亚因盛产石油享誉世界，许多大型油轮穿梭往来于图中的 A 海峡，该海峡是（ ）

A 马六甲海峡 B 霍尔木兹海峡 C 土耳其海峡 D 直布罗陀海峡

10、关于西亚和南亚的下列叙述，错误的是（ ）

A ①地区终年炎热干燥 B ②地区此时正值旱季
C ①地区居民普遍信仰伊斯兰教 D ②所在国电脑软件在世界上占重要地位

极地地区是研究地球环境的“天然实验室”。读两极地区图，回答 11-12 题。

11、南极洲和北冰洋绝大部分位于寒带，但南极洲平均气温比北冰洋低得多，其原因是：

①北冰洋的纬度位置比南极洲低 ②南极洲地势比北冰洋高 ③南极洲被冰雪覆盖，对阳光反射强 ④北冰洋海面吸收阳光辐射多

A ①②③④ B ②③④ C ①②③ D ①③④

12、现象一：澳大利亚和英国南极调查局的科学家研究发

现，当前南极冰层融化速度是 600 年前的 10 倍，这是 1000 年来的冰层最快消融速度。

现象二：即将逝去生存地而绝望的北极熊（右图）。

造成上述现象一、二的主要原因是：

A 世界各地频繁发生地震，致使南极地区冰雪融化
B 各地频繁发生森林火灾，致使两极地区冰雪融化
C 人类在生产生活中排放的二氧化碳等温室气体急剧增加，致使两极地区冰雪融化

D 局部地区战争不断，现代武器的运用，致使两极地区冰雪融化

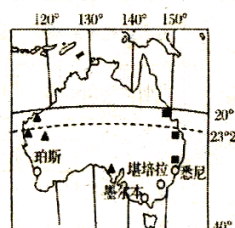
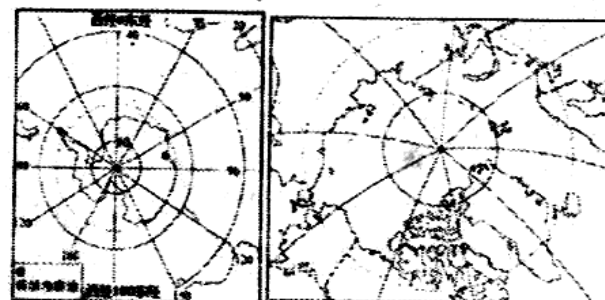
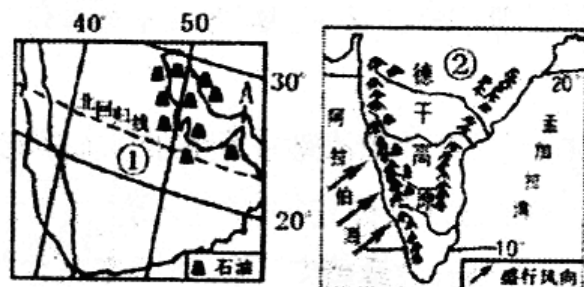
13、关于澳大利亚的叙述，正确的是（ ）

A 濒临三大洋，是世界上唯一拥有整个大陆的国家
B 气候炎热湿润，森林面积广布，农牧业发达
C 煤、铁等矿产资源丰富，被称为“坐在矿车上的国家”

D 首都堪培拉是全国最大的工业城市和港口城市
我国幅员辽阔，地域差异显著，自然、人文地理条件各异，读下图，回答 14-16 题。

14、图一中甲山脉与淮河构成我国东部地区重要的地理界线，它们大致与我国的____吻合。

①一月份 0°C 等温线 ②1600 毫米年等降水量



线 ③季风区和非季风区的界线 ④亚热带和暖温带的分界线

A①② B③④ C①③ D①④

15、关于图中四大区域的叙述，正确的是（ ）

A 图一中 C 和 D 两大区域的分界线是 400 毫米等降水量线

B 图二邮票中的少数民族主要集中分布在 C 区域

C 图三所示景观是藏族人崇佛礼佛的圣地，位于 D 区域内

D A 区域有色金属相当丰富，煤铁石油等资源缺乏

16、下面是某位旅游者，在我国四个不同地方所写的旅游札记，与图中 A、B、C、D 四个地点对应正确的是（ ）

①三月的积雪仍厚，爬雪山虽然寒冷，但仍需做好防晒 ②六月的这里，麦浪翻滚，到处都是喜人的金灿灿的丰收景象

③七月穿的短袖乙方一月穿也相当合适，阵雨想识途的老马，总是午后报到 ④凭良心讲，骑骆驼真是很恐怖的记忆，尤其是从骆驼背上落地，仿佛是突然从二层楼下降到一楼

A①-A ②-B ③-C ④-D B①-B ②-C ③-A ④-D C①-C ②-B ③-D

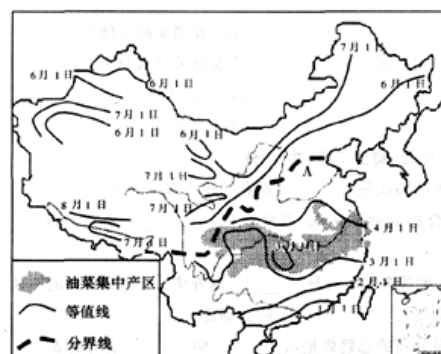
④-A D①-D ②-A ③-B ④-C

满眼金色油菜花是美丽乡村的一道风景，读图回答 17 题。

17、造成我国东部地区油菜开花时间存在差异的主要影响因素是（ ）

A 纬度因素 B 海陆因素 C 地形因素 D 人类活动

长江、黄河是中华民族的“母亲河”，读图完成 18-19 题。



18. 长江和黄河共同流经的地形区是（ ）

A. 青藏高原 B. 柴达木盆地

C. 内蒙古高原 D. 四川盆地

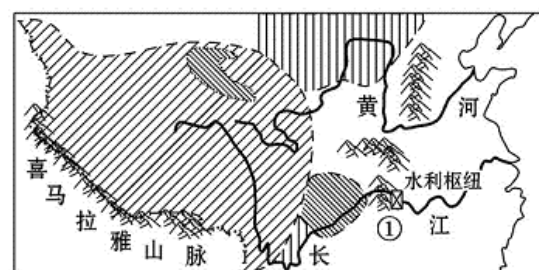
19、关于长江、黄河流域开发利用方式，合理的是（ ）

A 长江上游陡坡垦殖

B 黄河中游植树种草

C 长江中游洞庭湖围湖造田】

D 黄河下游发展水电



随着经济的发展，我国的铁路建设步入“高速时代”。京广高铁于 2012 年 12 月 26 日全线贯通，成为世界上运营里程最长的高速铁路。据此回答 20 题。

20、决定该高速铁路分布的主导因素是（ ）

A. 气候 B. 经济发展 C. 科技 D. 地形

北京是我国的首都，也是世界上著名的历史文化名城和国际化大都市。读图文资料回答



21-22 题。

21、关于北京市地理特征的叙述，正确的是（ ）

①全国的政治、文化中心 ②南水北调东线、中线调水方案的终点城市③北依燕山，西临太行山 ④我国最大的工业城市 ⑤历史文化名城

A①②④ B①③⑤ C②③④ D③④⑤

22、2013 年 1 月份以来，北京多次陷入了严重的雾霾天气，空气能见度低，质量下降，给人们生产、生活及身体带来较大危害。下列行为中，不能降低或缓解北京雾霾天气发生的是（ ）



A 增加城市绿地 B 注意节能减排,倡导低碳经济 C 大力倡导步行或乘坐公交车上下班 D 大力推广家庭小汽车的使用

港澳珠大桥是连接香港、珠海和澳门的跨海大桥,大桥主航道位置采用隧道形式,确保不影响前往广州和深圳港口主行船只的通行来往。2013 年 5 月 6 日,港澳珠大桥岛隧工程首节沉管安装到位。据图文资料,回答 23-24 题。

23、港澳珠大桥中部(图中 A 处)建设成海底隧道,主要是为了()

- A. 便于大型轮船通行 B. 缩短通行距离
C. 加大桥面宽度 D. 减小施工难度

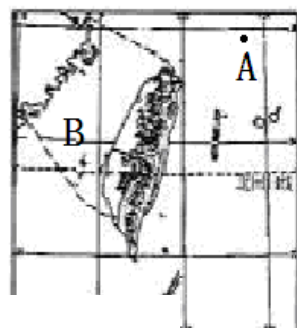
24、下列有关香港和澳门的叙述,正确的是()

- A 香港与经济特区珠海相邻
B 澳门被称为“购物天堂”
C 香港和澳门都濒临黄海
D 香港和澳门都有发达的旅游业

钓鱼岛位于 $132^{\circ} 33' E$, $25^{\circ} 45' N$, 据我国台湾基隆越 102 海里,与台湾岛都是中国领土。读图回答 25 题。

25、关于台湾省的叙述,错误的是()

- A 图中 A 处是钓鱼岛,自古以来就是我国的领土
B 地形以平原、丘陵为主
C 农业、人口和城市主要分布在西部沿海平原地区
D 工业以加工制造业为主



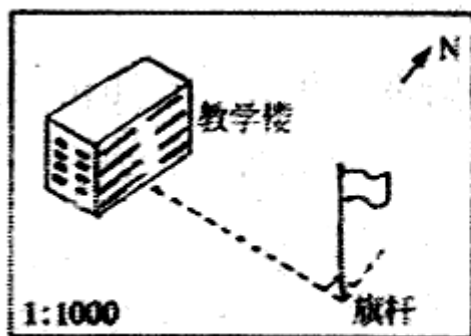
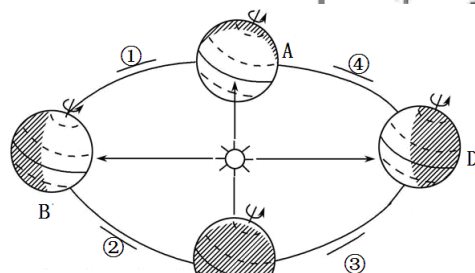
第二卷 (非选择题, 共 50 分)

26、【观察现象】读图, 回答问题 (7 分)

(1)地球公转的周期是_____。

(2)当地球运动到图一中的 A 处时, 太阳直射在_____ (纬线) 上; 当地球运动在图一中 C 和 D 位置之间时, 泰安市昼夜长短情况是_____。

(3)泰安市某学校的小明同学在探究学习活动中, 分别在图一的四个节气当天正午时刻测量学校旗杆影子长度, 并运用地图的有关知识绘制出了图二和图三。据图回答;



图二




图三


小明学校的教学楼位于旗杆的_____方向; 图三中甲、乙、丙、丁四幅旗杆影子示意图, 为冬至日观测到的是_____幅; 6 月 14 日学业水平考试时, 小明学校的旗杆影子长度最接近_____幅, 此时, 地球应运动在图一①、②、③、④段中的_____段。

27、【走进生活】泰安市某中学地理研究性学习小组对“欧洲西部及东南亚人们的饮食习惯”进行了探究。根据问题结合所学知识和图片资料分析回答。(7 分)

问题一：欧洲西部居民餐桌上为什么常见牛羊肉、奶油、奶酪等食品？

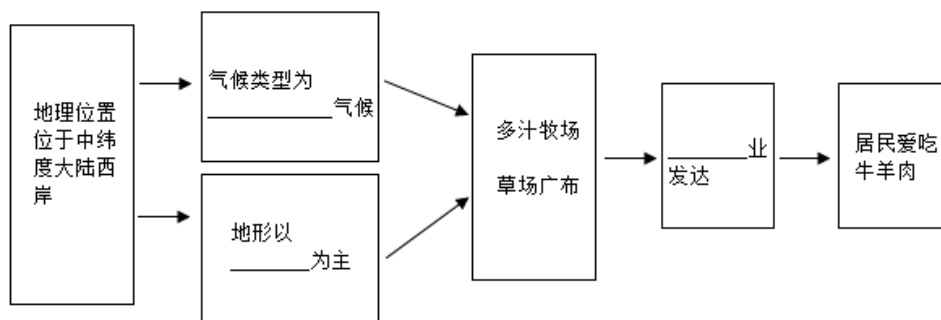


问题二：东南亚地区人们为什么多以大米为主食？



问题分析：

(1)问题一；请根据所学的知识完成下面的联系图(填出空格上的内容)：



(2)问题

二：

分析：由于东南亚主要是_____和热带季风两种气候类型，热量充足；在许多河流下游的冲积平原地区，地势平坦、土壤肥沃，很适合种植粮食作物_____，并且产量很大。

探究结论：由此可见，一个地方人们的饮食习惯主要与当地的_____（至少两点）等地理环境因素有关。

28、【关注时事】阅读材料结合下图，回答问题（8分）

材料一：国家主席习近平于3月22日至30日对上述四国进行国事访问，并出席在南非德班举行的金砖国家领导人第五会晤。3月25日，国家主席习近平抵达南非比勒陀利亚，开始对南非进行国事访问，并出席在南非德班举行的金砖国家领导人第五会晤。

材料二：近年来，朝鲜半岛局势持续紧张。2013年2月12日，朝鲜第三次核试验震惊了世界，舆论哗然。



图 A：习近平出访路线图

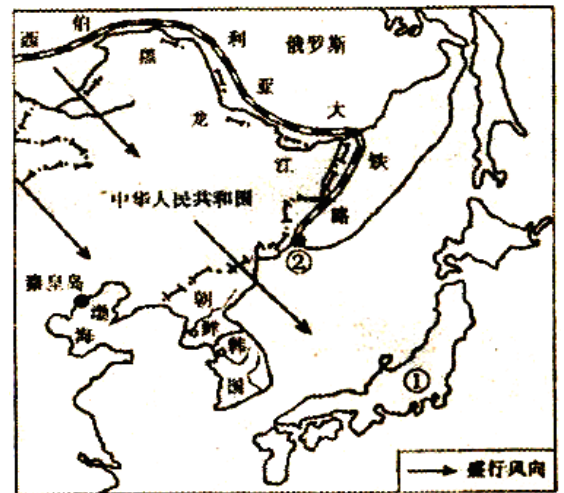
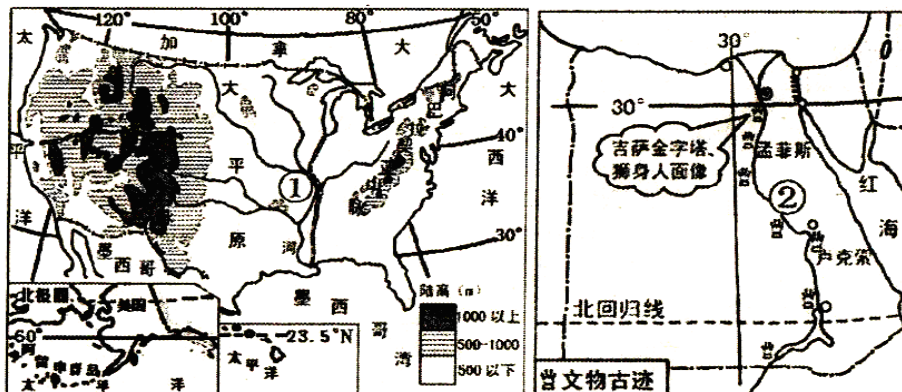


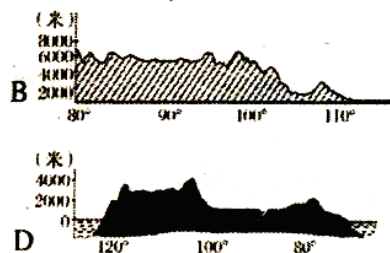
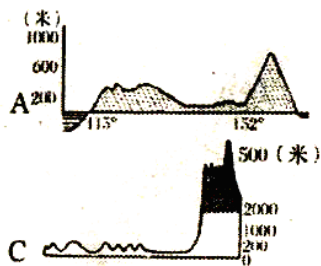
图 B：亚州东北部

- (1) 读图 A 可知，习近平出行路线先后经过了_____个大洲。
- (2) 中俄签署的合作文件中，最不可能从俄罗斯进口的是（ ）（填字母）
A 石油 B 服装 C 木材 D 铁矿
- (3) 从图 A 和所学知识可以判断，习近平访问的最后一个国家所在的地形区主要是_____。
- (4) “金砖国家”领导人的频繁会晤，体现了国际合作日益密切，世界正朝着经济全球化方向发展。下列生产、生活现象不能体现经济全球化的是_____。（填字母）
A 小玲爸爸公司的汽车，发动机是德国的，零部件是日本的
B 小强爸爸在中国买到了来自美国的最新手机 iPhone5
C 小华家种的小麦供自己全家吃
D 小芳家的电脑是深圳出产的，但软件是美国开发的
- (5) 图中 B 中出现的盛行风时，该区域内气候特点是_____。
- (6) 根据图 B 中信息可以判断，朝鲜半岛的地势特点是_____。
- (7) 俄罗斯太平洋沿岸的主要海港城市是_____。
- (8) ① 所在国的工业分布与俄罗斯有何不同？_____。

29、【体验风情】读美国、埃及略图，回答问题（7 分）



- (1) 根据图中提供的纬度位置信息，可以判断美国是一个地跨_____温度带的国家。
- (2) 埃及的文物古迹以及人口、城市主要分布在_____。




(3)下列地形剖面图能过反映美国自西向东地形分布特点的是_____(填字母)

(4)图中①河是_____,②河流注入_____。

(5)试比较美国和埃及在人文地理特征方面的不同之处。(至少两个方面, 2分)

30、【学以致用】根据我国某省级行政区 2010 年基本图表资料, 分析回答下列问题。(7 分)

项 目	数 量
面积(万平方千米)	39.4
人口(万人)	4596
国境线长度(千米)	4060
海岸线长度(千米)	0
平均海拔(米)	2000
1月平均气温(℃)	>0
降水较多的月份(月)	5~9
年降水量(毫米)	1000~1500



(1)该省级行政区的人口密度是_____人/平方千米。

(2)该省级行政区是_____省份(填“沿海”或“边境”), 位于我国地势第_____级阶梯。

(3)该省级行政区大部分地区的气候类型是_____。

(4)该省级行政区土地构成中, _____所占比重较大。

(5)根据以上信息综合判断, 该省级行政区是下图中的_____ (填数码)



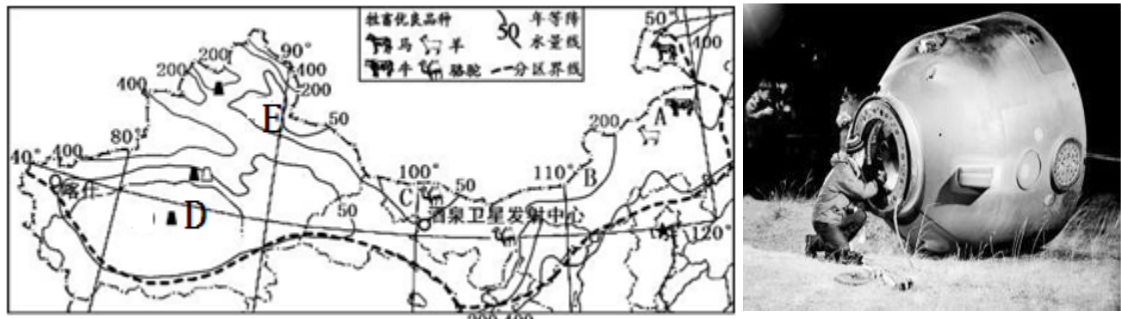
(6)该省级行政区与④省区都有面积较大的草地分布。目前, 我国在草地利用方面存在的主要问题是_____

31、【感受成就】阅读图文资料, 回答下列问题。(7 分)

材料一;

2012 年 6 月 16 日 18 时 37 分，“神舟九号”飞船在酒泉卫星发射中心发射升空。先后与天宫一号目标飞行器在轨成功进行了两次交会对接。6 月 29 日上午，神舟九号载人飞船返回舱在内蒙古安全着陆。

材料二：西北地区略图和神舟九号载人飞船返回舱着陆图。

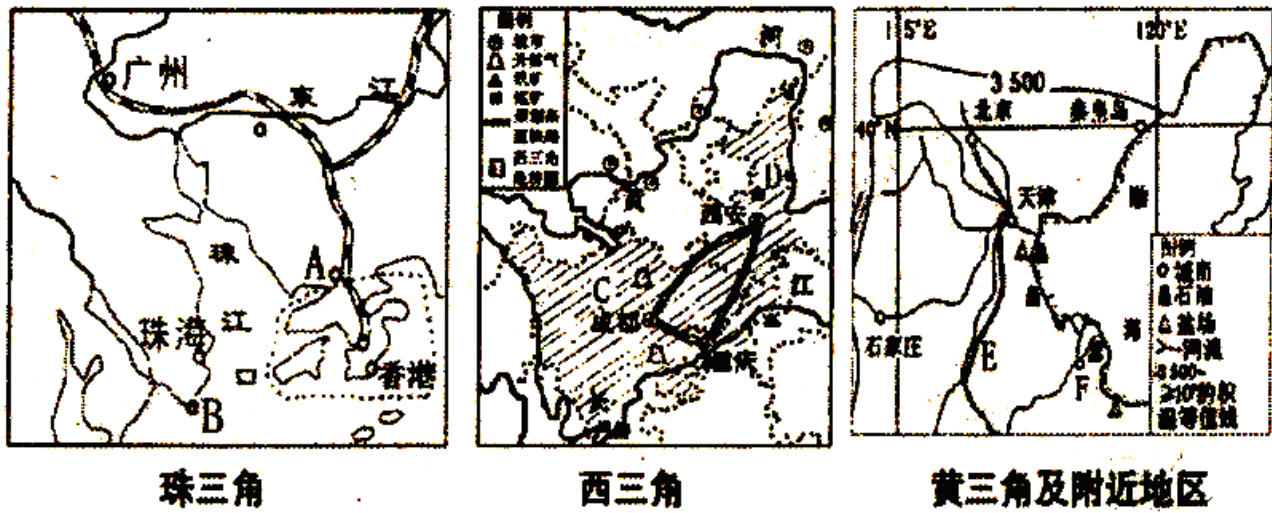


- (1)家住纽约（西五区）的美籍华人赵强观看中国网络电视台的神舟九号飞船发射升空同步直播，他应该在__月__日__时__分准时观看。
- (2)“神州”和“天宫”飞行器都是由我国航空航天制造业自主研发的高精尖系列产品，该制造业按产业部门划分，属于_____产业。
- (3)“神州”系列飞船的主着陆场选择在内蒙古自治区范围内，主要是因为该区域地形_____，人烟稀少，便于对飞船的检测跟踪，适宜飞船返回舱着陆。
- (4)图中 A 处水草肥美，牧业发达，该处传统民居为_____。
- (5)图中 D 处为_____盆地，为将该地区的能源输送到我国东部地区，建设了_____工程。
- (6)本区的新疆是我国重要的长绒棉产区，该区种植棉花的有利自然条件是_____。

32、【比较差异】根据图文资料结合所学知识，回答问题。（7 分）

材料一：继长三角、珠三角、黄三角、中三角以来，针对我国西部地区的现状，全国人大代表提出了“西三角经济圈”的区域发展战略，以带动西部地区的经济发展。

材料二：珠三角、西三角和黄三角及附近地区地区略图



(1)珠三角图中 A 是_____（经济特区）

(2)西三角经济圈中 D 省的简称是_____，该经济圈在发展中造成的主要环境问题有哪些？

(3)黄三角及附近地区中共 E 代表_____铁路。根据图中矿产资源分布分析，该区域可以发展的工业部门是_____

_____。

(4)黄河三角洲处于陆地、淡水、海水交界地带，是世界上暖温带保存最广阔、最完善、最年轻的湿地生态系统。区内拥有高等植物 700 余种，动物 900 余种，地广人稀，未利用的土地 800 余万亩。2012 年 9 月 14 日至 16 日，“黄河三角洲国际生态农业博览会”在山东东营市垦利县举行。请根据图文信息资料，结合所学知识分析黄河三角洲发展生态农业的有利条件。

(5)珠三角与其他两个区域相比较，发展经济最大的区位优势是

泰安市二〇一三年初中学生学业考试

地理试题参考答案及评分说明

第I卷(选择题 每小题2分,共50分)

题号	1	2	3	4	5	6	7	8	9	10	11	12	13
答案	C	D	A	A	D	D	C	D	B	B	B	C	C
题号	14	15	16	17	18	19	20	21	22	23	24	25	
答案	D	C	D	A	C	B	B	B	D	C	D	B	

第II卷(非选择题 共50分)

26. (7分)(1)一年(365天) (2)赤道(0°) 昼短夜长 (3)西(正西) 甲 丁 ①

27. (7分)问题分析:(1)A 温带海洋性 B 平原 C 农作物 D 畜牧 (2)热带雨林 水稻 探究结论: 气候 地形(地理位置等)

28. (8分)(1)三 (2)B (3)刚果盆地 (4)C (5)寒冷干燥 (6)东高西低或东北高西南低 (7)符拉迪沃斯托克(海参崴) (8)①国(日本)的工业主要分布在太平洋沿岸和濠户内海沿岸,俄罗斯工业分布靠近原料产地

29. (7分)(1)寒温热 (2)尼罗河沿岸(②河流沿岸); (3)D (4)密西西比河地中海 (5)美国人口、城市大多分布在中部和东部地区,埃及人口集中分布在尼罗河谷地和三角洲地区;美国农业生产专门化水平很高,形成了多个农业带,是世界上出口粮食最多的国家,埃及农业集中分布在尼罗河谷地和三角洲地区,长绒棉的产量和出口量均居世界首位;美国是世界工业大国,信息技术、宇航技术、生物工程技术、核能利用等居世界领先地位,埃及的工业相对落后;美国是经济发达国家,埃及是发展中国家等,任意两个方面合理即可,2分

30. (7分)(1)117 (2)边境 二 (3)亚热带季风气候 (4)林地 (5)② (6)超载放牧、弃牧毁草开荒、靠天养畜等任意一个方面即可

31. (7分)(1)6月16日5时37分 (2)高技术(高新技术) (3)平坦(地势开阔) (4)蒙古包或毡房 (5)塔里木 西气东输 (6)光照充足,热量丰富;温差大;晴天多,利于棉花的后期采摘(意思相近,合理即可)

32. (7分)(1)深圳 (2)陕(秦) 水土流失,酸雨,水污染,大气污染等 (3)京沪 石油、盐化工(石油开采、石油加工、石油化工等) (4)本区地形平坦,气候温暖湿润,热量充足,后备土地资源、动植物资源丰富,人口少,污染小,发展绿色、安全农产品生产基地环境得天独厚(意思相近即可) (5)地处沿海,毗邻港澳,便于引进资金、技术和先进的管理经验